



امتحان مادة : الجغرافيا الاقتصادية
للف : الحادي عشر - الفترة المسائية
للعام الدراسي ١٤٤٤هـ - ٢٠٢٢/٢٠٢٣م
الدور الأول - الفصل الدراسي الثاني

- زمن الامتحان : (ساعتان) ● عدد صفحات أسئلة الامتحان: (٩) صفحات
● الإجابة في الدفتر نفسه .

		اسم الطالب
الصف		المدرسة

التوقيع بالاسم		الدرجة		السؤال
المصحح الثاني	المصحح الأول	بالحروف	بالأرقام	
				١
				٢
				٣
				٤
				٥
مراجعة الجمع	جمعه			المجموع
				المجموع الكلي

أجب عن جميع الأسئلة الآتية

السؤال الأول: ضع دائرة حول رمز الإجابة الصحيحة لكل مفردة من المفردات الآتية:

١- الشعب الأكثر شهرة في استخدام الأحجار الجيرية لتمهيد الطرق البرية:

- أ- الهنود ب- الرومان ج- الفرس د- العرب

٢- اخترع ألكسندر غراهام بل أول جهاز هاتف في العام الميلادي:

- أ- ١٨٦٦ ب- ١٨٦٧ ج- ١٨٧٦ د- ١٨٧٧

٣- دولة الميلاد الرسمي للحكومة الالكترونية:

- أ- إيطاليا ب- فرنسا ج- بريطانيا د- النمسا

٤- الدولة التي تمتلك أكبر شبكة نقل أنابيب في العالم مشار إليها بالرقم:



- أ- ١ ب- ٢

- ج- ٣ د- ٤

٥- القرن الميلادي الذي تحولت فيه السياحة إلى صناعة تعتمد عليها العديد من الدول في اقتصادها:

- أ- ١٨ ب- ١٩ ج- ٢٠ د- ٢١

تابع السؤال الأول:

٦- الشكل الذي يوضح مرحلة اختيار السلعة المناسبة في التجارة الالكترونية:



-د



-ج



-ب



-أ


٧- الفن العماني الذي أدرج في القائمة الدولية لليونسكو عام ٢٠١٤م:

-د- التغرود

-ج- العيالة

-ب- العازي

-أ- البرعة



٨- النشاط السياحي الذي تعبر عنه الصورة المقابلة :

-ب- علاجي

-أ- ثقافي

-د- ترفيهي

-ج- جيولوجي

٩- عقد المؤتمر العالمي الثالث للسياحة الجيولوجية في مدينة :

-د- أبو ظبي

-ج- الدوحة

-ب- الرياض

-أ- مسقط

١٠- إحدى الخدمات التالية تدخل ضمن البنية التحتية للإستثمار السياحي :

-د- المطارات

-ج- الأيدي العاملة

-ب- الكهرباء

-أ- المطاعم

١١- تمتد مرتفعات الألب في قارة :

-د- أمريكا الجنوبية

-ج- أوروبا

-ب- أفريقيا

-أ- آسيا

١٢- السائح الداخلي عالميا هو من يقوم برحلة تنزه تبعد عن بيئته حوالي :

-د- ٨٠ كم

-ج- ٧٠ كم

-ب- ٦٠ كم

-أ- ٥٠ كم

السؤال الثاني :

أولا : ١- عرف المفاهيم التالية:

أ- النقل المستدام :

ب - المنشأة السياحية :

٢- اذكر اثنين لكل من :

أ - أهمية السياحة للأفراد والمجتمعات.

١-.....

٢-.....

ب - مميزات النقل بالأنابيب.

١-.....

٢-.....

ثانيا : صف في الجدول التالي تسهيلات الإمداد اللوجستية في المواقع السياحية
(الهدايا التذكارية - التنقل - المقاهي - خدمات مصرفية)

تسهيلات الإمداد	الخدمة المقدمة
الخدمات اليومية
الرفاهية
الراحة

تابع السؤال الثاني :



ثالثا : انظر إلى الصورة التي أمامك ثم أجب عما يلي:
أ- ما المشروع الذي تعبر عنه الصورة المقابلة ؟

.....

ب- ما الهدف من المشروع ؟

.....

.....

ج- دلل على اهتمام السلطان قابوس بن سعيد- طيب الله ثراه- بتشجيع الحكومة الالكترونية .

.....

.....

السؤال الثالث :

أولا : ١- توضح الخريطة إحدى القنوات المائية في العالم والمشار إليها بالرمز ○ ادرسها ثم أجب عن

التالي :

أ- ما اسم هذه القناة المائية؟

.....

ب- تربط هذه القناة بين بحرين هما :

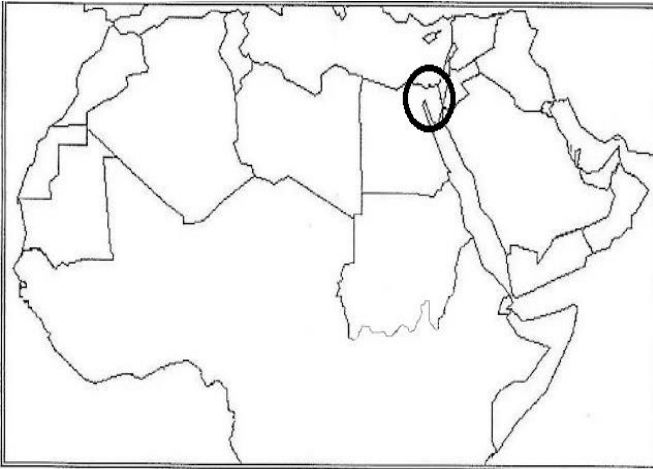
١-.....

٢-.....

ج- أهم السلع التي تنقل من الخليج العربي إلى

غرب أوروبا عبر هذه القناة ؟

.....



٢- فسر، يحتل مضيق هرمز أهمية استراتيجية كبيرة بالنسبة للعالم .

.....

.....

.....

تابع السؤال الثالث :

ثانيا : ١- صف الأنشطة السياحية التالية حسب نوع السياحة:
(رياضية - ثقافية - جيولوجية)

النشاط السياحي	نوع السياحة
زيارة متحف اللوفر في باريس
زيارة كهف الهوتة في سلطنة عمان.
المشاركة في مسابقة طواف عمان

٢- ما النتيجة المترتبة على :-

أ- إنشاء المناطق التجارية الحرة .

.....
.....

ب- إنشاء تسهيلات النقل في المواقع السياحية .

.....
.....

ثالثا : ادرس الشكل المقابل والذي يعبر عن إحدى المقومات السياحية الجاذبة في محافظة الوسطى ، ثم
أجب عما يلي :



١- ما اسم الموقع السياحي .

.....

٢- ما الولاية التي يقع فيها.

.....

السؤال الرابع :

أولا : الشكل الذي أمامك يوضح قيمة الصادرات والواردات من المنتجات الزراعية للبرازيل ادرسه ، ثم أجب عن التالي:

١- احسب الميزان التجاري للبرازيل.

.....
.....

٢- ما أهمية أن يكون الميزان التجاري للدولة موجب (+)؟

.....
.....


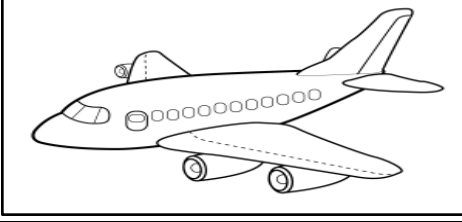
ثانيا : ١- من خلال الشكل المقابل ، أجب عما يلي :



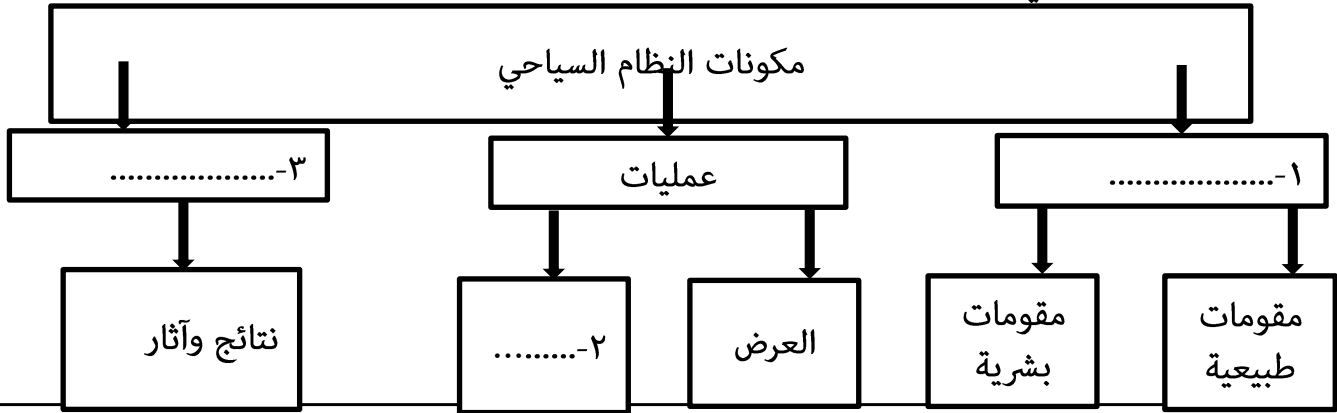
أ-.....	اسم الشعار
ب-.....	مجالاته (يذكر اثنين)
.....	

تابع السؤال الرابع

٢- أمامك شكلان للنقل ادرسهما ، ثم أجب عما يلي في الجدول :

		
٢-.....	١-.....	نوع النقل
٤-.....	٣-.....	مميزاته

ثالثا : أكمل المخطط التالي :



السؤال الخامس :


أولاً: أمامك جدول ادرسه، ثم أجب عن التالي :

الدولة	نسبة مساهمة قطاع السياحة من الناتج المحلي الإجمالي.
اسبانيا	%١٩
الأردن	%٢٦,١
مصر	%٢١,٧
مالطا	%٣٤,١
بريطانيا	%١٤,٢
النمسا	%١٦,٩

أ- رتب الدول العربية ترتيباً تنازلياً (من الأكثر إلى الأقل) من حيث مساهمة قطاع السياحة في الناتج المحلي :

الترتيب	الدول
١
٢

ب- مثل بيانياً نسبة مساهمة السياحة في الناتج المحلي لمالطا .



تابع السؤال الخامس

ثانيا : ١- اذكر أمثلة على مواقع الأنواع السياحة التالية :

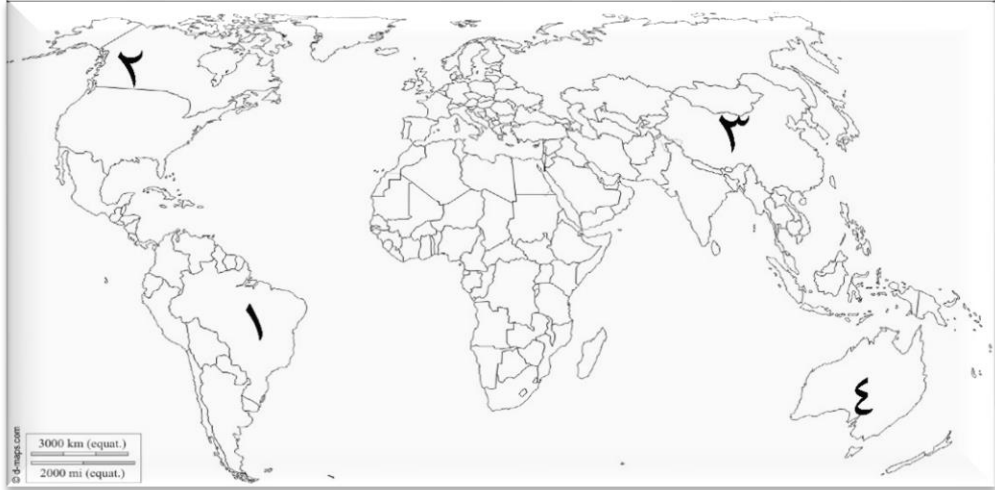
- أ-العلاجية المعدنية :
- ب- الترفيهية :
- ج- الدينية :

٢- علل : زيارة الأوروبيين شتاء للمنتجعات السياحية في شاطئ السوادي .


.....

.....

ثالثا : أمامك خريطة العالم ادرسها جيدا ثم أجب عن التالي :



١-اكتب الأرقام الدالة على ما يلي :

- أ-الدولة التي احتضنت نهائيات كأس العالم لكرة القدم عام ٢٠١٤م (.....) .
- ب- الدولة التي تنشط فيها رياضة نزول الأخاديد.(.....) .
- ج- من أوائل الدول المطبقة لنظام حسابات السياحة (.....) .
- ٢- باستخدام الرمز  حدد موقع قناة بنما على الخريطة .

٣-فسر : تعتبر قناة بنما أعجوبة هندسية.

.....

.....